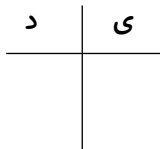
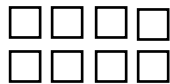
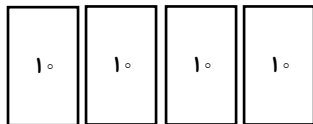


صداقت، اعتماد، اعتبار (سالی شایسته برای اعتماد ذینفعان)

۱) با توجه به شکل عدد مربوطه را در جدول قرار دهید و به عدد و حروف بنویسید.



عدد:

حروف:

۲) مریم ۴ گل رز قرمز و ۳ گل رز صورتی دارد. اگر ۲ گل رز خود را به دوستش بدهد. چند گل برایش باقی می ماند؟

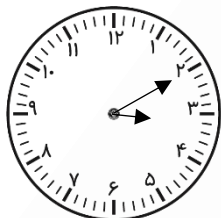
۳) ادامه دهید.

۱۸ - ۲۰ - ۲۲ - - -

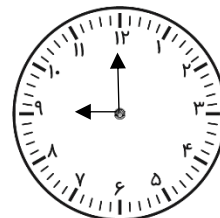
۱۴ - ۲۱ - ۲۸ - - -

بیست و نه - سی - سی و یک - -

۴) ساعت چند است؟



ساعت کمی از گذشته است.



ساعت است.

۵) با کارت رقم های ۵ و ۷ هر چه قدر می توانید عدد دو رقمی بنویسید.

۶) جمع های زیر را به روش خواسته شده بنویسید.

$5 + 6 =$

(جمع دوقلو)

$8 + 7 =$

(به ده رساندن)

(۷) با رقم‌های ۰، ۳ و ۴ هر چقدر می‌توانید عدد دو رقمی بنویسید.

(۸) جاهای خالی را کامل کنید.

$$۴۰ + ۳۰ = \dots\dots\dots$$

۴ - دسته ده‌تایی به اضافه ۳ دسته ده‌تایی می‌شود دسته ده‌تایی

$$۷۰ - ۵۰ = \dots\dots\dots$$

۷ - دسته ده‌تایی منهای ۵ دسته ده‌تایی می‌شود دسته ده‌تایی

(۹) ساختمانی ۴ طبقه دارد. هر طبقه ۲ پنجره دارد.

الف) ۲ طبقه چند پنجره دارد؟

ب) ۶ پنجره برای چند طبقه است؟

دلبندم به یک سؤال به انتخاب خودت پاسخ بده.

(۱) هر عدد را در جدول ارزش مکانی قرار دهید و به حروف بنویسید.



د	ی



د	ی

حروف:

حروف:

(۲) حاصل عبارت‌های زیر را به صورت ذهنی بدست آورید.

$$۲۰ + ۱۰ + ۴ + ۵ + ۶ =$$

$$۳۰ - ۱۰ + ۵ + ۵ + ۲۰ =$$

(۳) عددی دو رقمی بنویسید که رقم یکان آن ۴ و دهگان ۲ تا از یکان کمتر باشد.